



# MUNICÍPIO DA ESTÂNCIA BALNEÁRIA DE PRAIA GRANDE

Estado de São Paulo  
SEDUC - Secretaria de Educação

SEMANAS 11 e 12 (2º SEMESTRE 2021)

## SALA DE AULA



Disciplina: Matemática

1ª e 2ª séries da EJA

OBSERVE A SEQUÊNCIA DOS NÚMEROS:

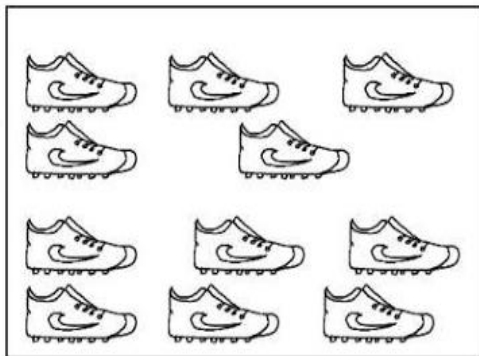
41 – 42 – 43 – \_\_\_\_ – 45 – \_\_\_\_ – \_\_\_\_ – 48 – \_\_\_\_ – \_\_\_\_

1. RESPONDA A ALTERNATIVA CORRETA. QUAIS SÃO OS NÚMEROS QUE COMPLETAM ESSA SEQUÊNCIA?

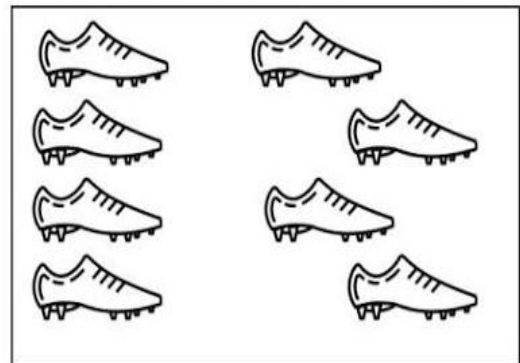
- A) 43 – 44 – 47 – 49 – 50
- B) 45 – 46 – 47 – 48 – 49
- C) 44 – 46 – 47 – 49 – 50
- D) 40 – 46 – 47 – 48 – 49
- E) 44 – 45 – 46 – 47 – 50

2. FAÇA UM X NO QUADRADINHO QUE MOSTRA O MAIOR NÚMERO DE CHUTEIRAS.

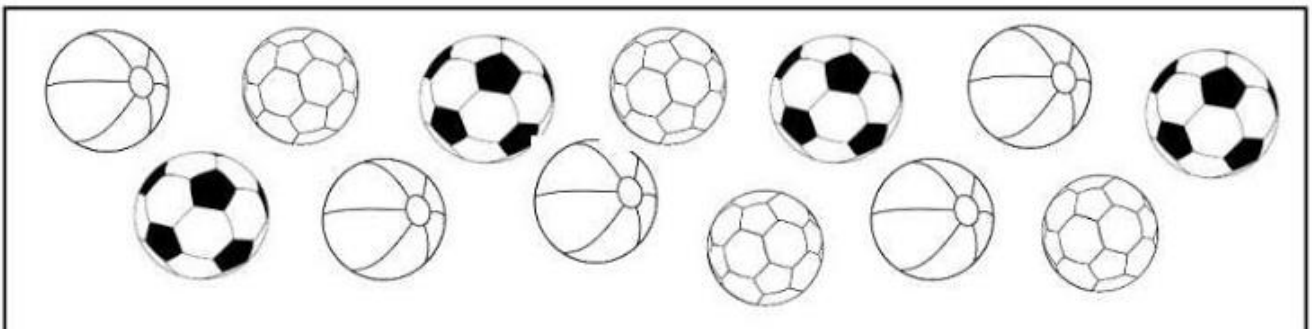
A)



B)



3. OBSERVE A COLEÇÃO DE BOLAS DE PEDRO NO QUADRO.



FAÇA UM X NO QUADRADINHO QUE MOSTRA A QUANTIDADE DE BOLAS NA COLEÇÃO DE PEDRO.


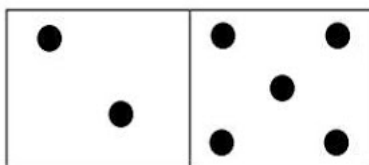
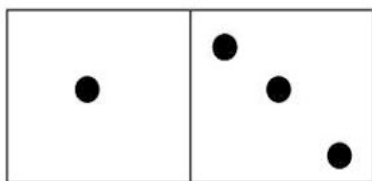
A) 3

B) 23

C) 31

D) 13



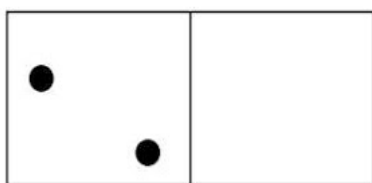
4. SOME A QUANTIDADE DOS DOMINÓS.



A)  $\underline{\quad} + \underline{\quad} = \underline{\quad}$

B)  $\underline{\quad} + \underline{\quad} = \underline{\quad}$

C)  $\underline{\quad} + \underline{\quad} = \underline{\quad}$



D)  $\underline{\quad} + \underline{\quad} = \underline{\quad}$

E)  $\underline{\quad} + \underline{\quad} = \underline{\quad}$

F)  $\underline{\quad} + \underline{\quad} = \underline{\quad}$

OBSERVE OS PREÇOS E RESPONDA EM SEU CADERNO.

BOLA DE FUTEBOL



50 REAIS

BOLA DE BASQUETE



48 REAIS

BOLA DE VÔLEI



49 REAIS

5. QUAL BOLA POSSUI O **MENOR** PREÇO?

- A) BOLA DE FUTEBOL.
- B) BOLA DE BASQUETE.
- C) BOLA DE VÔLEI.

6. QUAL BOLA POSSUI O **MAIOR** PREÇO?

- A) BOLA DE FUTEBOL.
- B) BOLA DE BASQUETE.
- C) BOLA DE VÔLEI.